

صداقت، اعتماد، اعتبار (سالی شایسته برای اعتماد ذینفعان)

۱) عزیزم عدد هر دسته را بنویس و یا به تعداد هر عدد شکل بکش.

Empty rounded rectangle for writing the number 6.

6

Three groups of three vertical lines (///) and three groups of three slanted lines (////).

Empty circle for writing the number 9.

Empty rounded rectangle for writing the number 7.

7

Five smiley faces arranged in a row.

Empty circle for writing the number 5.

۲) قبل و بعد هر عدد را بنویس.

..... - ۷ - - ۳ - - ۰

۳) عزیزم به تعداد عدد از شکل‌ها خط بزن چندتا باقی می‌ماند؟ عدد آن را بنویس.

Six snails in a row with a box containing the number 2 and a dotted line for writing the answer.

Eight butterflies in a row with a box containing the number 1 and a dotted line for writing the answer.

۴) در جای خالی عدد یا علامت مناسب بگذار.

۷ ○

//// // ○ ۸

۵ ○ ۵

۵) کدام عدد بیشتر است؟ چوب خط آن را بکش.

Flag with numbers 6, 8, 5 and an empty box for drawing a number line.

Flag with numbers 5, 7, 3 and an empty box for drawing a number line.

Flag with numbers 4, 6, 2 and an empty box for drawing a number line.

۶) به تعداد شکل‌های سمت چپ و راست چوب خط رنگی بکش. عدد مربوط به چوب خط‌ها را بنویس.

Four giraffes in a row.

Three cats in a row.

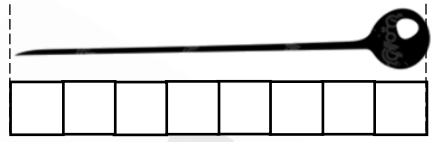
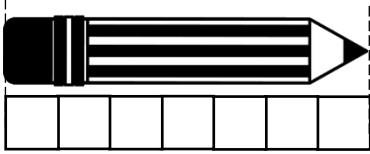
Empty circle for writing the number 7.

Six owls in a row.


Two dogs in a row.

Empty circle for writing the number 8.

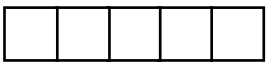
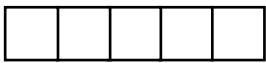
۷) اندازه‌ی هر شکل چند چینه است؟




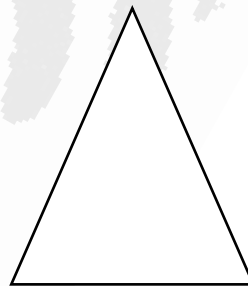

۸) نیمه‌ی دیگر شکل را کامل کن.



۹) به تعداد چوب خط سمت چپ از چینه‌ها آبی و به تعداد چوب خط سمت راست چینه را قرمز کن. چندتا می‌شود؟ عدد آن را بنویس.



۱۰) با استفاده از خط کش خطی بکش که شکل را به دو نیمه مثل هم تقسیم کند.



۱۱) سودوکو را حل کن.

	۲	۳	۴
۴			۱
۳			۲
۲	۴	۱	۳

۱۲) آنقدر شکل بکش که تعداد شکل‌ها مانند عدد شود.

